



DEJEPIS

Odporúčané pracovné zošity s vynímateľnou časovou mapou
od autorov D. Gurňáka a K. Ondrejku




48 strán

2,30 €




40 strán

2,30 €




40 strán

2,30 €



40 strán

2,30 €



56 strán

2,30 €

ceny platia pri objednávkach nad 10 ks

VŠETKY ZOŠITY SÚ V SÚLADE S NOVÝM ŠVP

V ZOŠITOK NÁJDETE:

tvorivé úlohy s mapou, slovné a obrázkové úlohy, zábavné úlohy, úlohy pre náročných, úlohy typu PISA na čítanie s porozumením, kľúčové slová k téme, testy na opakovanie učiva

Tvorivé úlohy s mapou:

NA HRANICI S OSMANSKOU RÍŠOU

1. Na mape Uhorska zo 16. a 17. storočia doplň legendu. Do mapy pomocou dejepisného atlasu vyznač nasledujúce bitky alebo dobytia významných pevností: Moháč 1526, Budín 1541, Filakovo 1555, Nové Zámky 1664, Viedeň 1683. Šípkou vyznač, odkiaľ kam približne útočili uhorskí povstalci proti Habsburgovcom.

hranice Uhorska do roku 1526
významná bitka
smereŕ ŕubenia povstani proti Habsburgovcom

územia Uhorska pod vládou:

Slovné a obrázkové úlohy:

RAKÚSKO-UHORSKÉ VYROVNANIE A SLOVÁCI

1. Ktorý znak je rakúsky a ktorý uhorský? ▲▲
Vysvetli, čo znamená skratka c. a k.

2. Doplň schému vnútorného zriadenia Rakúsko-Uhorska.

3. Na mape Rakúsko-Uhorska z roku 1867 pomocou dejepisného atlasu a učebnice doplň správne vysvetlivky. Do mapy vpiš na správne miesta názvy národov Rakúsko-Uhorska.